



امتحان مادة : الدراسات الاجتماعية (هذا وطني)
للف : الحادي عشر
للعام الدراسي ١٤٤٤هـ - ٢٠٢٢/٢٠٢٣م
الدور الاول - الفصل الدراسي الثاني (الفترة المسائية)

- زمن الامتحان : (ساعتان) ● عدد صفحات أسئلة الامتحان: (٦) صفحات.
- الإجابة في الدفتر نفسه .

		اسم الطالب
الصف		المدرسة

التوقيع بالاسم		الدرجة		السؤال
المصحح الثاني	المصحح الأول	بالحروف	بالأرقام	
				١
				٢
				٣
				٤
				٥
مراجعة الجمع	جمعه			المجموع
				المجموع الكلي

(١)

المادة : الدراسات الاجتماعية (هذا وطني) الصف : الحادي عشر الدور الاول - الفصل الدراسي الثاني
(الفترة المسائية) - العام الدراسي ٢٠٢٢/٢٠٢٣ م

أجب عن جميع الأسئلة الآتية

السؤال الأول: ضع دائرة حول رمز الإجابة الصحيحة لكل مفردة من المفردات الآتية:

١. استحدثت سلطنة عمان بوابة استثمار بسهولة بهدف:

- أ- الترويج للمنتجات العمانية •
ب- تسهيل إقامة المشاريع الاقتصادية
ج- تسهيل التصدير للخارج
د- تقليل المنافسة على المنتجات المحلية

٢. العام الميلادي الذي أنشئت فيه هيئة حماية المستهلك:

- أ- ٢٠٠٩ ب- ٢٠١٠ ج- ٢٠١١ د- ٢٠١٢

٣. السلطة القضائية المختصة بالإشراف على شؤون الضبط القضائي:

- أ- المحكمة العليا ب- القضاء العادي ج- القضاء الإداري د- الادعاء العام

٤. السلع والمنتجات المستوردة من الساحل الشرقي لأفريقيا إلى عمان في العصور الإسلامية والحديثة:


- أ- المنسوجات-العاج-العقاقير-الزجاج
ب- الصوف-العاج-الجلود-النحاس
ج- العاج-الصوف-الجلود-العقاقير
د- الحديد-العطور-الجلود-الصوف

٥. عدد الأبواب التي يتكون منها النظام الأساسي للدولة:

- أ- ٧ ب- ٨ ج- ٩ د- ١٠

٦. القطاع الاقتصادي الموضح في الصورة المقابلة الذي يتأثر بأسعار السوق العالمي:

- أ- الصناعة ب- الزراعة



- ج- النفط د- الخدمات

٧. الفترة الزمنية التي وضعت فيها البنية الأساسية للاقتصاد العماني في عهد النهضة المباركة:

- أ- (١٩٧٥-١٩٧٠م) ب- (١٩٧٥-١٩٨٠م) ج- (١٩٨٠-١٩٨٥م) د- (١٩٨٥-١٩٩٠م)

المادة : الدراسات الاجتماعية (هذا وطني) الصف : الحادي عشر الدور الاول - الفصل الدراسي الثاني
(الفترة المسائية) - العام الدراسي ٢٠٢٢/٢٠٢٣ م

تابع السؤال الأول:

٨- الرقم الذي يشير إلى الدولة التي توجد بها الأكاديمية العسكرية الملكية (ساند هيرست) في الخريطة المقابلة :



ب- ٢

أ- ١

د- ٤

ج- ٣

٩- أنشأتها الحكومة لتقليل من حدة المعوقات التي تواجه المنتجات العمانية:

ب- هيئة حماية المستهلك

أ- هيئة تنمية المؤسسات الصغيرة والمتوسطة

د- وزارة المالية

ج- وزارة التجارة والصناعة وترويج الاستثمار

١٠- سأل أحمد أستاذه عن المقولة الشهيرة للسلطان قابوس بن سعيد - طيب الله ثراه - " عفا الله عما سلف "

فوض له أن هذا الشعار الذي نادى به السلطان تمثل في:

أ- انتهاج سياسة حسن الجوار مع الجيران

ب- عدم التدخل في الشؤون الداخلية للدول

ج- العفو السامي عن كل من يحمل أفكاراً تعارض نظام الحكم

د- تدعيم العلاقات مع الدول العربية

١١- استبدل المجلس الاستشاري للدولة الذي أنشئ عام ١٩٨١ م بـ :

د- مجلس الوزراء

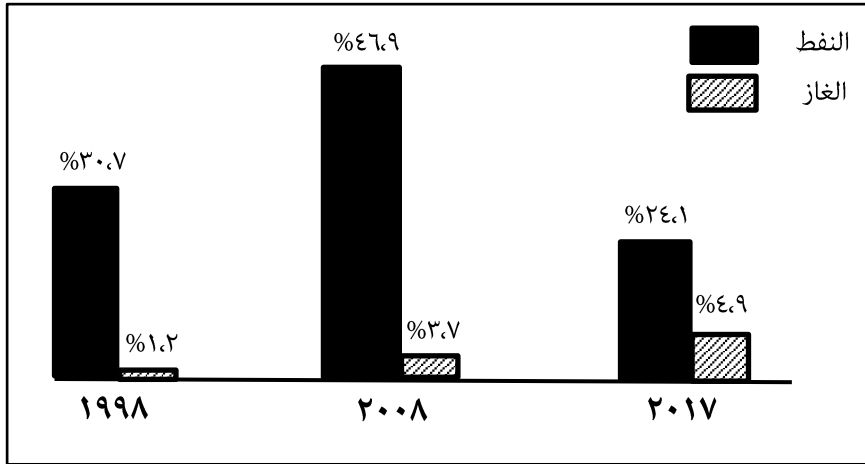
ج- المجلس البلدي

ب- مجلس الدولة

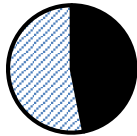
أ- مجلس الشورى

تابع السؤال الأول:

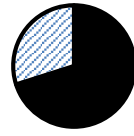
١٢- نسبة مساهمة النفط في الناتج المحلي الإجمالي لسلطنة عمان عام ٢٠٠٨ م من خلال الشكل:



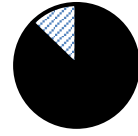
د -



ج -



ب -



أ -

السؤال الثاني: أجب عن الأسئلة الآتية:

أولاً: أ) عرف ما يأتي:

١- الناتج المحلي الإجمالي

٢- القانون

٣-

ب) صف العبارات الآتية بما يناسبها في الجدول التالي:

(رفع التوصيات إلى السلطان في الأمور التي تهم الدولة - يضم مجلس الدفاع والمجلس الأعلى للقضاء - اقتراح مشروعات قوانين وإحالتها إلى الحكومة لدراستها)

المجالس المتخصصة	مجلس عمان	مجلس الوزراء
.....
.....

ثانياً: علل ما يأتي:

١- يتم اختيار أعضاء مجلس الدولة من بين الشخصيات العمانية ذات الخبرة والكفاءة في المجالات المختلفة.


٢- اكتسبت المنتجات العمانية سمعة جيدة في الأسواق المحلية والعالمية .

.....

المادة : الدراسات الاجتماعية (هذا وطني) الصف : الحادي عشر الدور الاول - الفصل الدراسي الثاني
(الفترة المسائية) - العام الدراسي ٢٠٢٢/٢٠٢٣م

تابع:السؤال الثاني:

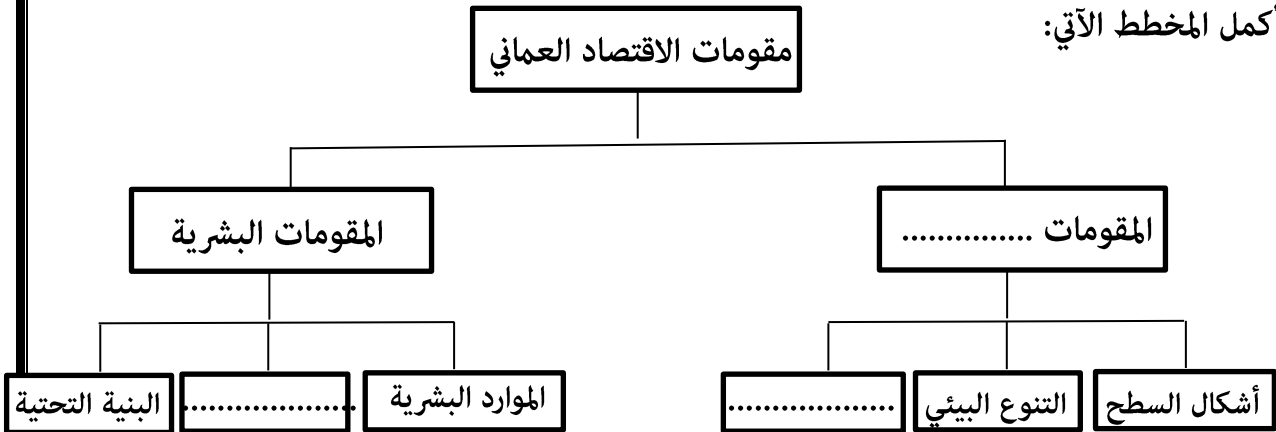
ثالثاً: من خلال الرسم البياني لحجم الاستثمارات الأجنبية في سلطنة عمان لعام ٢٠١٧م أجب عن الأسئلة الآتية:



- ١- ما الدولة الأعلى في حجم الاستثمارات الأجنبية عام ٢٠١٧م؟
- ٢- مثل بيانياً في الشكل حجم الاستثمارات لدولة الإمارات العربية المتحدة علماً بأن حجم الاستثمار بلغ ١١% لعام ٢٠١٧م.
- ٣- اذكر اثنين من الحوافز والامتيازات للمستثمرين الأجانب في سلطنة عمان.

السؤال الثالث: أجب عن الأسئلة الآتية:

أولاً: أكمل المخطط الآتي:



ثانياً: اذكر اثنين لكل من:

١-هوايات السلطان قابوس بن سعيد طيب الله ثراه.

..... -

٢-الأبواب التي يتكون منها قانون المرور العماني.

..... -

تابع: السؤال الثالث:

ثالثاً: اقرأ الكلمات السامية في النص الآتي ، ثم أجب عن الأسئلة التي تليه:

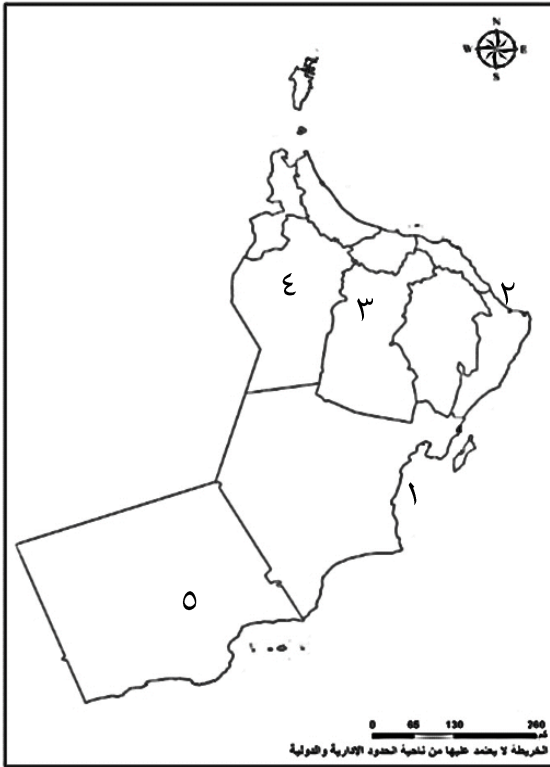
«ولقد تابعنا عن كتب أعمال مجلس عُمان بشقيه مجلس الشورى ومجلس الدولة، في الفترات الماضية، مُثمنين الجُهد الذي بذله المجلس خلالها، مما كان له الأثر الملموس، للإسهام في دفع مسيرة التنمية الشاملة، قُدمنا نحو مزيدٍ من التطور والنماء». من خطاب السلطان قابوس بن سعيد - طيب الله ثراه - في افتتاح الدورة السادسة لمجلس عُمان/ ٢٠١٥ م.

- ١- يتكون مجلس عمان من مجلسين هما : - مجلس- مجلس..... (أكمل)
- ٢- ما المحافظة التي يوجد بها مبنى مجلس عمان؟
- ٣- ما العام الميلادي الذي ألقى فيه السلطان قابوس بن سعيد - طيب الله ثراه- هذا الخطاب؟.....

السؤال الرابع: أجب عن الأسئلة الآتية:

أولاً : من خلال الخريطة التي أمامك أجب عما يلي:

- ١- ما اسم الميناء المشار إليه بالرقم (١) ؟
- ٢- استخرج من الخريطة ما يلي:
أ- الرقم الذي يشير إلى الولاية التي اشتهرت بصناعة السفن
- ب- الرقم الذي يشير إلى الولاية التي يوجد بها المعهد العالي للقضاء
- ٣- اكتب ميناء صحار في موقعه الصحيح على الخريطة.



ثانياً: أذكر نتيجة واحدة مترتبة على كل من:

- ١- سعي الجهات المختصة إلى دعم المنتج العماني وحث المواطنين على شرائه.

- ٢- موقع عمان الجغرافي وخبرة العمانيين في الملاحة البحرية.

تابع : السؤال الرابع:

ثالثاً: أكمل البطاقة التعريفية للسلطان قابوس بن سعيد طيب الله ثراه:

الاسم	قابوس بن سعيد
تاريخ الميلاد
الولاية التي ولد فيها
ترتيب حكمه في الأسرة البوسعيدية
الرياضات المحببة لديه

السؤال الخامس: أجب عن الأسئلة الآتية:

أولاً: أذكر اثنين لكل من :

١- القطاعات غير النفطية في سلطنة عمان.

..... -

٢- الجوانب التي تضمنتها الرؤية المستقبلية عمان ٢٠٤٠.

..... -

ثانياً: ادرس الصورة التي أمامك ثم أجب عن الأسئلة الآتية:



١- ما القانون العماني الذي يختص بهذه المشكلة؟

.....

٢- ما الجهة المسؤولة عن تطبيق هذا القانون؟

.....

٣- كم عدد الأبواب التي يتكون منها هذا القانون؟

.....

٤- ما أهمية هذا القانون؟

.....

ثالثاً: اكتب المصطلح الدال على العبارات الآتية:

١- عدد من القواعد الأساسية التي تبين نظام الحكم وتنظيم السلطات العامة وارتباطها ببعضها بعضاً

واختصاص كل منها وتقرير ما للأفراد من حريات عامة وحقوق وما عليه من واجبات (.....)

٢- عملية تهدف إلى تنويع هيكل الإنتاج وإيجاد قطاعات جديدة مولدة للدخل (.....)

انتهت الأسئلة مع الدعاء للجميع بالتوفيق والنجاح.